



# НАУКА И ИСКУССТВО 1-2-е классы



Задания конкурса  
в 2025/2026  
учебном году



# Задания конкурса «Астра» для 1–2-х классов

1



**В** произведении древнерусской литературы «Слово о полку Игореве» содержится описание небесного события, которое наблюдалось накануне битвы русичей с половцами. По нему учёные определили дату битвы. На картинке это событие также показано. Что это за событие?

**А** Извержение вулкана.

**Б** Белая ночь.

**В** Солнечное затмение.

**Г** Ярко-красный закат.

2

**На** старинном льняном гобелене 11 века вышита картина со сценой: горожане дивятся невиданному ранее небесному явлению. Какое событие увидели горожане?



**А** Старт космического корабля.

**Б** Полёт кометы.

**В** Магнитную бурю.

**Г** Взрыв пушечного снаряда.

3

**К**артинки любят рисовать все: и взрослые, и дети, и поэты, и даже учёные. Какой **СХЕМАТИЧНЫЙ** РИСУНОК сделан в прошлом веке учёным К. Э. Циолковским для иллюстрации состояния невесомости космонавтов?



2

**А**

**Б**

**В**

**Г**



**Этот архитектурный объект имеет округлую форму не случайно. Он построен астрономами-любителями для облегчения наблюдения за небом и может делать то, что раньше можно было представить только в сказках! Что он умеет?**

4

- А** Поворачиваться вокруг оси.
- Б** Парить над землёй без опоры.
- В** Разгонять над собой тучи.
- Г** Передвигаться по дорогам.



**На картинке показан памятник, расположенный в г. Москве. Он символизирует победу человека над космосом. А что находится в руке человека?**

5

- А** Первый глобус Земли.
- Б** Первая обнаруженная комета.
- В** Макет первого искусственного спутника Земли.
- Г** Первое ядро, предназначенное для полёта человека.



**На здании ведущего университета России МГУ в качестве полезного украшения установлен необычный циферблат. Стрелка на нём подсказывает, что на улице...**

6

- А** восходит солнце.
- Б** прохладная погода.
- В** возможен дождь.
- Г** дует юго-восточный ветер.



**Что по прямому назначению не является музыкальным инструментом?**

7




3


**8** Выбери фрагмент картины, на которой изображена ясная погода.



**А**



**Б**

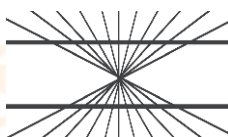


**В**



**Г**

**9** Иллюзионизм – направление искусства, в котором с помощью научных знаний добиваются эффектного обмана зрения. На какой картинке **НЕТ** иллюзии?



**А** Горизонтальные линии выглядят изогнутыми



**Б** Рост людей кажется заметно отличающимся



**В** Кажется, что у человека нет туловища



**Г** Трубы вверху кажутся более узкими

**10** Даже в фигурном катании необходимы научные знания! На какой картинке показано самое быстрое вращение фигуристки?



**А**



**Б**



**В**



**Г**

**11**



**Что** на показанной картине дети тащат в накрытой бочке на ткацкую фабрику?

**А** Цемент.

**Б** Песок.

**В** Воду.

**Г** Бетон.



**Выбери рисунок сооружения, изготовленного из воды.** 12




**А**



**Б**



**В**



**Г**

**Что Корней Чуковский воспевает в произведении «Мойдодыр»? Выбери подходящий ответ-картинку.** 13



**А**



**Б**



**В**



**Г**

**Человек какой творческой профессии изображён на рисунке?**

**А** Чеканщик.

**Б** Резчик.

**В** Флорист.

**Г** Стеклодув.



14

**Выбери ответ-картинку к загадке:**

Пушистая вата плывёт куда-то.

Чем вата ниже, тем дождик ближе.

15



**А**



**Б**



**В**



**Г**

5

**16** К какой сказке А. С. Пушкина сделал иллюстрацию художник И. Я. Билибин?



**А** «Сказка о царе Салтане».

**Б** «Сказка о мёртвой царевне и семи богатырях».

**В** «Сказка о Золотом петушке».

**Г** «Сказка о рыбаке и рыбке».

**17** Художественная резьба является одним из элементов традиционной культуры Китая. Её выполняют даже на фруктовых косточках. Укажите номера всех фруктов, которые используют мастера-резчики по фруктовым косточкам.

1. Киви. 2. Персик. 3. Оливка. 4. Абрикос. 5. Гранат.

**А** 1, 5.

**Б** 1, 2, 4.

**В** 2, 3, 4.

**Г** 2, 3, 5.

**18** На иконе 16 века «Хвалите Господа с небес» подписаны все изображённые на ней звери. Какой зверь назван так: «мышь слепая»?

**А** Крот.

**Б** Бобр.

**В** Ёж.

**Г** Белка.

**19**



Древние мастера создавали изображения зверей, птиц, передавая характерные черты животных, делая их узнаваемыми. Кого изображает показанная на рисунке фигурка, отлитая из бронзы?

**А** Горного козла.

**Б** Косулю.

**В** Лося.

**Г** Лошадь.

**20** Художник И. И. Левитан назвал свою картину так, как принято называть эту прекрасную пору в народе.



Как именно?

**А** Весна красна.

**Б** Золотая осень.

**В** Разноцвет.

**Г** Спелый месяц.



**К**артины итальянского художника 16 века Арчим-**21**  
больдо из цикла «Времена года» – это портреты,  
составленные из растений, характерных для каждо-  
го времени года, и символизирующие все возрасты  
человека – юность, молодость, зрелость и старость.  
Какая из картин соответствует зиме?



**В** 2014 году в г. Баку построили новое здание для **22**  
Азербайджанского национального музея ковра.  
Архитектор специально придал зданию специ-  
фический облик. Укажите это здание.




**23** Пиццикато – приём игры на смычковых инструментах, например, скрипке, когда звук извлекается не смычком, а щипком струны, отчего становится более глухим, тихим и коротким по продолжительности. С помощью этого приёма Антонио Вивальди в произведениях «Времена года» создавал иллюзию довольного распространённого природного явления. Какого?

- А** Ветра.      **Б** Града.      **В** Дождя.      **Г** Снегопада.

**24** Эта кукла – популярный объект декоративно-прикладного искусства. Она впервые была представлена публике в 1890 году. К этой круглолицей девушке, как правило, прилагаются ещё несколько фигурок детей, самая маленькая из которых изображает спелёнатого младенца. Какое имя носила кукла в 1890 году?

- А** Барбара.      **Б** Лабубу.      **В** Лола.      **Г** Матрёна.

**25** Как называется вид декоративного искусства, в котором выполнен объект, изображённый на картинке?



- А** Бумагокручение (квиллинг).

**Б** Коллаж.

**В** Мозаика.

**Г** Оригами.